

**UNIVEN/UNISAM/SERRAVIX  
VESTIBULAR 2011/1 (prova dia 16/12/2011)**

---

**REDAÇÃO  
LÍNGUA PORTUGUESA  
MATEMÁTICA  
CONHECIMENTOS GERAIS**

**Instruções:**

1. Leia todas as opções antes de responder às questões;
2. A interpretação das questões é parte integrante da prova;
3. Depois de responder às questões no corpo do caderno de prova, marque a resposta certa no gabarito;
4. Qualquer RASURA no Gabarito, implica na anulação da questão;
5. Marque apenas UMA alternativa, pois só há UMA resposta certa em cada questão;
6. Use somente caneta azul ou preta para preencher o gabarito;
7. A prova tem duração máxima de 04 (quatro) horas e está assim constituída: 50 (cinquenta) questões objetivas e uma Redação;
8. Escreva seu nome na folha de resposta (gabarito) e na folha de redação. Além disso, coloque o seu número de inscrição de forma legível;
9. Você deve assinar a lista de frequência, conforme a orientação do fiscal;
10. A consulta a livros ou anotações, utilização de materiais que não o fornecido, ou conversa com outro candidato, acarretam na anulação das provas dos envolvidos;
11. Não é permitido o uso de máquinas calculadoras e celulares;
12. O rascunho deve ser feito no próprio caderno de provas;
13. Há três temas propostos para a sua redação. Você deve escolher um deles e desenvolvê-lo. Não faça cópia. Utilize pelo menos uma das idéias contidas na coletânea;
14. Observe que há uma folha de rascunho, que pode ser feita a lápis. Entretanto, a folha oficial, ou seja, que é a base de correção da sua redação é a Folha de Redação, que deve estar à caneta e com o mínimo de rasuras. Não se esqueça de colocar o número de inscrição e seu nome, de forma legível, na Folha de Redação;
15. Implica ANULAÇÃO da prova de redação: fuga total ao tema; não utilização da coletânea e elaboração de outro tipo de texto que não seja uma dissertação;
16. Os cadernos de provas só podem ser liberados para os candidatos que saíam após às 20:00;
17. A prova do vestibular e o gabarito estarão à disposição dos candidatos no site da Faculdade ([www.serravix.com.br](http://www.serravix.com.br)) a partir das 08 horas do dia 17/12/2010;
18. O horário de realização do processo seletivo é de 19:00 às 23:00;
19. O resultado do processo seletivo 2011/1 estará à disposição dos candidatos no dia 20/12/2010 do corrente ano, nos murais e no site da Faculdade ([www.serravix.com.br](http://www.serravix.com.br)).

**BOA PROVA!!**

**EQUIPE UNIVEN/UNISAM**

## REDAÇÃO

1. Leia os 03 temas dados a seguir e analise as ideias neles contidas;
2. Escolha um dos temas e faça uma **dissertação** em que você exponha seus pontos de vista e conclusões, não se esquecendo de colocar título na sua redação;
3. A dissertação deve ter a extensão mínima de 20 linhas e máxima de 30, considerando-se a letra de tamanho regular;
4. A folha de redação deve ser feita à caneta (preta ou azul);
5. Implica a ANULAÇÃO da prova de redação:
  - a) Fuga total do tema;
  - b) Não utilização da coletânea;
  - c) Elaboração de outro tipo de texto que não seja uma dissertação.

### Tema 01

*“...É preciso amar as pessoas  
Como se não houvesse amanhã  
Por que se você parar  
Prá pensar  
Na verdade não há...  
Sou uma gota d'água  
Sou um grão de areia  
Você me diz que seus pais  
Não entendem  
Mas você não entende seus pais...  
Você culpa seus pais por tudo  
Isso é absurdo  
São crianças como você  
O que você vai ser  
Quando você crescer?”*

(Legião Urbana - Música Pais e Filhos)

Nos últimos anos muito tem se discutido a respeito da relação entre pais e filhos. Reflita sobre o questionamento seguinte: **qual o papel dos pais no atual contexto e no futuro da sociedade?** Apóie-se em vivências próprias ou alheias, reais ou idealizadas e procure dar consistência a seus argumentos, criando um texto coerente, bem fundamentado, que contenha introdução, desenvolvimento e conclusão.

### Tema 02

**“Ser ou não ser? Eis a questão!”**

William Shakespeare (1564-1616) é o escritor mais famoso de língua inglesa. Shakespeare colocou essa fala na locução do personagem Hamlet, escrito em 1.600 d. C. Passados mais de 400 anos, essa frase continua bem atual e usada cotidianamente em nossas vidas. E você: como aplicaria esse questionamento nesse momento? Reflita e redija um texto dissertativo sobre o assunto proposto. O texto deve ser coerente, bem fundamentado e conter introdução, desenvolvimento e conclusão.

### Tema 03

**“ A ignorância não fica tão distante da verdade quanto o preconceito.”** (Denis Diderot)

**“O preconceito é um fardo que confunde o passado, ameaça o futuro e torna o presente inacessível.”** (Maya Angelou)

Reflita sobre essas frases e redija um texto dissertativo, sobre o tema preconceito. O texto deve ser coerente, bem fundamentado e conter introdução, desenvolvimento e conclusão.



## LÍNGUA PORTUGUESA

.....  
**Leia o texto atentamente e com base nele, responda as questões de 01 a 05 :**

*Sem que deixasse transparecer sua angústia, Machado de Assis sofrera consigo alongado tormento com a visita de Ferrero. As despesas da acolhida, o programa de homenagens, assistência ao visitante – tudo lhe havia sido entregue. E a tudo atendera com meticoloso cuidado. Uma infinidade de pequenas coisas, ele, o homem tímido, teve de resolvê-las quase sozinho – convites, cadeiras para o auditório, reserva de hotel, visitas, passeios, como se a saúde e o ânimo lhe sobrassem, nesta fase de velhice e solidão.*

(MONTELHO, Josué)

- 01) A idéia central do trecho é:
- a) A velhice de Machado de Assis
  - b) A visita de Ferrero a Machado
  - c) Uma série de providências que tinham que ser tomadas com a visita de Ferrero.
  - d) Doença e desânimo, velhice e solidão de Machado
  - e) Tormento e trabalhos de Machado com a visita de Ferrero
- .....
- 02) Dizendo que Machado sofrera consigo alongado tormento, o Autor afirma que:
- a) Machado sofrera em silêncio
  - b) Machado sofrera um tormento distante
  - c) Machado sofrera por sua própria causa
  - d) Machado sofrera por causa da velhice e solidão
  - e) Machado sofrera de longe uma dor oculta
- .....
- 03) Meticoloso significa:
- a) Intrometido
  - b) Misterioso
  - c) Miúdo
  - d) Escrupuloso
  - e) Comedido
- .....
- 04) Assistência ao visitante no texto é a transformação de:
- a) O visitante assumiu a
  - b) (Ele) assistiu ao visitante
  - c) (Ele) assistiu o visitante a
  - d) Assistiram à vinda do visitante
  - e) n.d.a
- .....
- 05) Alongado tem no contexto o sentido de:
- a) Profundo
  - b) Longínquo
  - c) Prolongado
  - d) Remoto
  - e) Adiado
- .....

### Texto para as questões 06 a 09

Geralmente, o povo de uma nação inventa, interroga e venera algum tipo de imagem de si mesmo por duas razões. Para assoprar nas brasas do patriotismo ou porque faltam outros argumentos para justificar a existência da nação.

Felizmente, o caso do Brasil é este (não o primeiro). Nos falta uma História moderna de fazeres coletivos: Independência, República, Abolição vieram de cima. Não foi necessário que o povo batalhasse nas ruas. E nos faltam registros de experiência comum. Me explico. Saiam da atmosfera qualidade-total controlada de um prédio da Paulista com pouso de helicóptero no terraço e enfrentem ônibus, boteco de vila e desmoronamentos.

Verão que, entre elites e povo, a experiência básica de vida mal se sobrepõe. Portanto, na hora de construir nossa nação moderna, era (ainda é) vital uma imagem que representasse a razão de estarmos juntos no Brasil. Como encontrá-la?

(Contardo Calligaris, Época Especial "Nós, brasileiros" 24/05/99, p.11)

06) O texto apresenta, como idéia central:

- a) A falta de razões para o patriotismo dos brasileiros
- b) O confronto entre a História oficial e a nossa realidade
- c) A distância ainda existente entre ricos e pobres no país
- d) A hegemonia das elites sobre as massas populares no Brasil
- e) A necessária relação entre vivência compartilhada e identidade nacional

07) As idéias apresentadas pelo autor no texto **não** permitem concluir que:

- a) A qualidade de vida dos paulistas não tem equivalente no país
- b) As transformações políticas de uma nação deveriam ser fruto de construção coletiva
- c) O Brasil é um país de extremos, no que diz respeito às diferenças sociais
- d) Toda nação precisa ter sua existência justificada
- e) O Brasil ainda não é uma nação moderna

08) A seqüência que melhor corresponde ao modo como as idéias do primeiro parágrafo se relacionam com as do segundo é:

- a) Do mais genérico para o mais específico
- b) Do mais exemplificativo para o mais informativo
- c) Do mais concreto para o mais abstrato
- d) Do mais improvável para o mais provável
- e) Do mais afastado para o mais próximo no tempo

09) **INSTRUÇÃO:** Responder à questão indicando V (verdadeiro) ou F (falso) em cada uma das afirmativas referentes aos recursos que conferem ao texto maior expressividade.

( ) No primeiro parágrafo, uma enumeração e uma metáfora sugerem o empenho dos povos na construção de uma auto-imagem positiva

( ) No segundo parágrafo, as marcas da subjetividade do autor restringem-se ao uso da 1ª pessoa do discurso

( ) No segundo parágrafo, a utilização de um qualificador composto não usual reforça a idéia de eficiente modernidade

( ) No terceiro parágrafo, o uso da 1ª pessoa do plural dá ênfase à crítica que o autor dirige a todos os brasileiros

A alternativa que contém a seqüência correta é:

- a) V – F – V – F
- b) V – V – F – F
- c) F – V – F – V
- d) F – F – V – V
- e) V – F – F – V

10) A frase correta quanto à acentuação e grafia é:

- a) Quem viaja deve mantêr-se em equilíbrio entre a temeridade e a prudência
- b) Os povos indígenas que habitavam as Américas construirão história e cultura extraordinariamente ricas
- c) O período das grandes navegações trouxe ferteis resultados para algumas nações européias
- d) Os gregos detêm até hoje a primazia em termos de narrativas mitológicas
- e) Resultados advíndos de pesquisas científicas desfazem freqüentemente as dúvidas dos mais cétricos

11) Um escritor sempre poderá encontrar uma forma criativa para expressar algo, sem incorrer em fórmulas desgastadas pelo uso excessivo. Tal, no entanto, **NÃO** ocorre em

- a) "Na rua, sustento o caule de uma grande rosa negra, que se abre sobre mim na chuva." (**guarda-chuva**)
- b) "Aquela andorinha que vai sumindo cada vez mais longe – será mesmo uma andorinha? Ou minha saudade que te mando?" (**saudades**)

- c) “Você disse que bala mata / bala não mata ninguém / a bala que mais mata / são os olhos de meu bem.” (**quadrinha**)
- d) “Boião de leite que a noite leva com as mãos de trava para não sei quem beber e que embora levado devagarinho vai derramando pingos brancos pelo caminho.” (**lua cheia**)
- e) “Tu és o pão que vai matar minha fome, a água que vai saciar minha sede, o sol que aquece minha vida.” (**declaração de amor**)

12) Cientistas \_\_\_\_\_ buscando alternativas para uma tecnologia que, concebida como solução para os problemas da humanidade, \_\_\_\_\_ hoje um ecossistema \_\_\_\_\_ beira de um colapso inimaginável \_\_\_\_\_ algumas décadas.

A alternativa cujos itens completam a frase acima de acordo com a norma culta do idioma é

- a) vêm – contabiliza – à – há
- b) vem – contabilisa – à – há
- c) vêm – contabilisa – a – à
- d) vêm – contabiliza – à – a
- e) vem – contabiliza – a – há

13) Em que frase o espaço em branco deve ser preenchido apenas com pronome relativo e não com pronome relativo regido por preposição?:

- a) Trata-se de uma jóia de família ..... jamais me desfarei
- b) O candidato expôs planos ..... ninguém confiou
- c) Nesta rua, os serviços..... você tem acesso são inúmeros
- d) Foi positivo o resultado ..... a empresa atingiu
- e) Eis o documento ..... cópia me refiro

#### Texto para as questões de 14 a 16

A explosão de computadores pessoais, as “infovias”, as grandes redes – a Internet e a Word Wide Web – atropelaram o mundo. Tornaram as leis antiquadas, reformularam a economia, reordenaram prioridades, redefiniram os locais de trabalho, mudaram o conceito de realidade e obrigaram as pessoas a ficar sentadas, durante longos períodos de tempo, diante de telas de computadores, enquanto o CD-Rom trabalha. Não há dúvida de que vivemos a revolução da informação e, diz o Professor do MIT, Nicholas Negroponte, revoluções não são sutis.

(Jornal do Brasil, 13/10/2006)

14) No texto, a expressão que sintetiza os efeitos da revolução operada pela informática é:

- a) “atropelaram o mundo”
- b) “tornaram as leis antiquadas”
- c) “reformularam a economia”
- d) “redefiniram os locais de trabalho”
- e) “desafiaram constituições”

15) A expressão “revoluções não são sutis” indica:

- a) A natureza efêmera das revoluções
- b) A negação dos benefícios decorrentes das revoluções
- c) A natureza precária das revoluções
- d) O caráter radical das revoluções
- e) O traço progressista das revoluções

16) As aspas foram usadas em “**infovias**” pela mesma razão por que foram usadas em:

- a) Mesmo quando a punição foi confirmada, o “Alemão”, seu apelido no Grêmio, não esmoreceu
- b) Fica difícil entender por que há cada vez mais pessoas preconizando a “fujimorização” do Brasil
- c) O Paralamas, que normalmente sai “carregado” de prêmios, só venceu em edição
- d) A renda média “per capita” da América Latina baixou para 25% em 2005
- e) A torcida gritava “olé” a cada toque de seus jogadores

17) A frase em que a correlação de tempos e modos verbais foge às normas da língua escrita padrão é:

- a) Pode-se prever que os ideólogos do capitalismo usarão todos os apelos populistas de que puderem valer-se para introduzir um forte golpe
- b) Em 1970, não houve argumento capaz de convencer a imprensa paulista de que seria de interesse geral a 1ª Bienal Internacional do Livro
- c) Todos seríamos escravos de idéias maniqueístas, não fora o trabalho desenvolvido pelos filósofos iluministas
- d) Agora que ensandeceste, se a tua consciência reouver um instante de sagacidade, tu dirás que queres viver
- e) Se os parlamentares tivessem tido preocupação de discutir com seriedade as propostas, leitores só poderão estar satisfeitos

.....  
18) Conta Rubem Braga o conselho que um amigo lhe deu certa vez: "Olhe, Rubem, faça como eu, não tope parada com a gramática."

Tratando Rubem por tu e respeitando o padrão culto, o amigo deveria dizer:

- a) Olhai, Rubem, faz como eu, não enfrente a gramática
- b) Olhai, Rubem, faze como eu, não te vás atemorizar com a gramática
- c) Olha, Rubem, faça como eu, cuide de seguir a gramática
- d) Olhe, Rubem, faça como eu, evita fugir da gramática
- e) Olha, Rubem, faz como eu, não desafie a gramática

.....  
19) Indique a alternativa em que, pluralizando-se a frase, as palavras destacadas permanecem invariáveis:

- a) Este é o **meio** mais exato para você resolver o problema: estude **só**
- b) **Meia** palavra, **meio** tom – índices de sua sensatez
- c) Estava **só** naquela ocasião; acreditei, pois, em **meia** promessa
- d) Passei **muito** inverno **só**
- e) **Só** estudei o elementar; o que me deixa **meio** apreensivo

.....  
20) Identifique a alternativa que completa corretamente a frase:

Ela afirmou que nos ouvirá com prazer, mesmo que \_\_\_\_\_ problemas que \_\_\_\_\_ considerados \_\_\_\_\_.

- a) surja – sejam – incontornáveis
- b) surja – seja – incontornável
- c) surjam – sejam – incontornáveis
- d) surjam – sejam – incontornável
- e) surja – sejam – incontornável

.....  
**MATEMÁTICA**  
.....

**As questões 21 e 22 referem-se ao texto abaixo:**

Em Economia é muito comum o estudo de oscilação de preços utilizando expressões como oferta, procura, elasticidade e demanda. Tais termos estão intimamente ligados às relações comerciais de forma geral e ao comportamento dos principais agentes das relações comerciais.

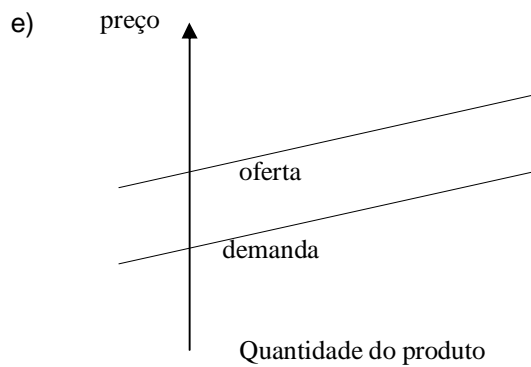
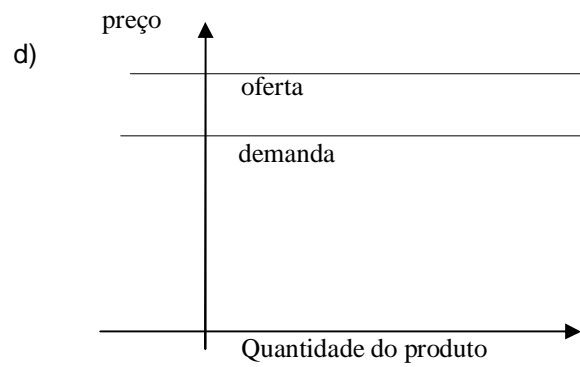
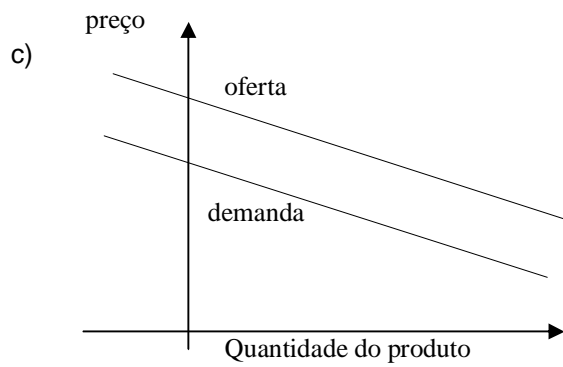
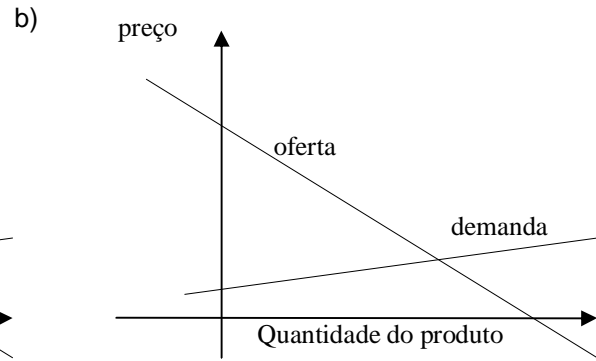
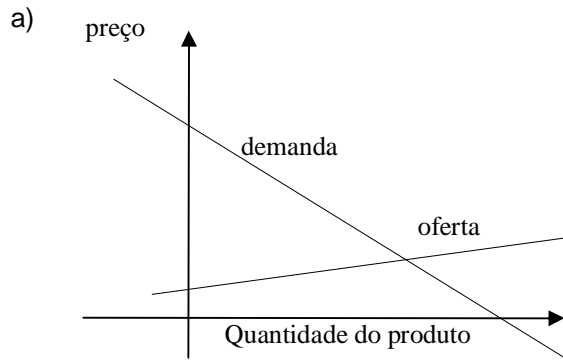
O preço (p) de determinado produto em função da oferta de x unidades no mercado pode ser dado pela expressão

$$p = - + 25.$$

Se for avaliada a demanda (procura) por x unidades do mesmo produto, o preço (p) pode ser obtido por

$$p = -2x + 70 .$$

21) De acordo com as expressões acima, qual gráfico melhor representa os comportamentos da demanda e da oferta?



22) O preço de equilíbrio (ou ponto de equilíbrio) é o preço com o qual a demanda (procura) coincide com a oferta dos produtos. Qual é o ponto de equilíbrio do produto em questão?

- a) 33 reais.
- b) 18 reais.
- c) 35 reais.
- d) 34 reais.
- e) 10 reais.

23) A questão refere-se ao texto abaixo:

**Gasto do brasileiro nos supermercados sobe em todas as classes de renda**

**SÃO PAULO** - Os gastos dos consumidores brasileiros nos supermercados apresentaram alta no segundo trimestre deste ano, segundo revela estudo realizado pela Nielsen Brasil, intitulado "Crise ou Incerteza?".


De acordo com o levantamento, o gasto total do brasileiro de menor renda, que representa 36% dos consumidores, subiu 5% no período analisado. O consumidor de maior renda (20% do total) gastou 4% a mais e o de renda média (44% dos consumidores) elevou em 1% sua despesa.

Fonte: <http://economia.uol.com.br/ultimas-noticias/infomoney/2009/10/30/gasto-do-brasileiro-nos-supermercados-sobe-em-todas-as-classes-de-renda.jhtm>  
(30/10/2009)

Suponha uma cidade brasileira com 100.000 habitantes cujos gastos totais com supermercado somaram R\$ 15.000.000,00 no primeiro trimestre de 2009. Se os percentuais de aumento forem os mesmos da reportagem acima, é CORRETO afirmar que:


- a) 44000 habitantes produziram um aumento de 5% em sua despesa.
- b) 36000 habitantes produziram um aumento de 1% em sua despesa.
- c) 44000 habitantes produziram um aumento de 4% em sua despesa.
- d) 20000 habitantes produziram um aumento de 5% em sua despesa.
- e) 44000 habitantes produziram um aumento de 1% em sua despesa.

24) Um compasso como o da figura desenha uma circunferência numa folha disposta sobre uma mesa plana. Supondo que as duas hastes do compasso tenham a mesma medida (10cm) e o ângulo entre eles é 30°, qual a área do círculo?



- a)  $A = (200 - 200 \sin 30^\circ) \text{ cm}^2$
- b)  $A = (100 - 100 \cos 30^\circ) \text{ cm}^2$
- c)  $A = (200 - 200 \cos 30^\circ) \text{ cm}^2$
- d)  $A = (200 - 200 \sin 30^\circ) \text{ cm}^2$
- e)  $A = (200 + 200 \cos 30^\circ) \text{ cm}^2$

25) Um azulejo quadrado de lado 3cm caiu no chão e quebrou conforme mostra a figura a seguir.



Qual é a área desse pedaço do azulejo?

- a)  $9 \text{ cm}^2$
- b)  $2 \text{ cm}^2$
- c)  $5 \text{ cm}^2$
- d)  $7 \text{ cm}^2$
- e)  $1 \text{ cm}^2$

26) A maior distância entre pontos de um círculo de área  $2 \text{ cm}^2$  é:

- a)  $\sqrt{2}$
- b)  $2\sqrt{2}$
- c)  $3\sqrt{2}$
- d)  $\sqrt{3}$
- e)  $2\sqrt{3}$

27) Um **ANAGRAMA** é uma palavra que se forma através da transposição de letras. Quantos anagramas é possível escrever com as letras da palavra SUCESSO.

- a) 840
- b) 2520
- c) 420
- d) 210
- e) 5040

28) Lisa dispõe de um pedaço de arame medindo 24cm. Ela deseja construir um triângulo retângulo de hipotenusa 10cm. Quais as medidas dos outros lados?

- a) 7cm e 7 cm
- b) 6cm e 7 cm
- c) 5cm e 9 cm
- d) 6cm e 6 cm
- e) 6cm e 8 cm

29) Em uma estrada de 40 km, Mariana andou 8km à pé e - de bicicleta. O resto do percurso foi realizado de carro. Quantos quilômetros foram percorridos de carro?

- a) 24
- b) 16
- c) 20
- d) 12
- e) 18

- 30) Um escultor forma uma liga composta por 2kg de estanho e 18kg de cobre. Qual o percentual de cada material na estátua construída com tal composto?
- a) Estanho 11% e cobre 89%
  - b) Estanho 02% e cobre 98
  - c) Estanho 10% e cobre 90%
  - d) Estanho 10% e cobre 18%
  - e) Estanho 05% e cobre 18%
- .....

### CONHECIMENTOS GERAIS

.....

31) A família do senhor Carlos ocupa há mais de 10 anos uma pequena área na denominada região colonial gaúcha. Tal porção de terra faz parte do que se denomina juridicamente como terras devolutas. A família do senhor Carlos pode ser caracterizada como:

- a) Arrendatária
  - b) Meeira
  - c) Parceira
  - d) Grileira
  - e) Posseira
- .....

32) Considerando a organização espacial do Brasil em termos de desenvolvimento agrícola, é correto afirmar que:

- a) A área de lavouras é maior que a área de pastagem no território brasileiro
  - b) Os minifúndios rurais, responsáveis pelo abastecimento interno, predominam nas "franjas" meridionais e orientais da Amazônia
  - c) O aumento de bóias-frias está relacionado ao crescimento do trabalho permanente nas lavouras familiares
  - d) A maior criação extensiva de bovinos do país encontra-se na Região Sul, devido ao crescente desmatamento
  - e) Os estados que mais produzem cana-de-açúcar e café são, respectivamente, São Paulo e Minas Gerais
- .....

33) Embora o Brasil possa ser considerado um país industrializado, ainda não saiu da condição de país não-desenvolvido. Isso ocorre, principalmente, devido à:

- a) Predominância de indústrias de grande porte nas mãos de restritos grupos nacionais
  - b) Existência de indústrias tecnologicamente desenvolvidas que provêm de países centrais, cujos lucros são revertidos para os países de origem
  - c) Predominância da participação da população no setor secundário da economia, porém com baixos salários
  - d) Exigência, desencadeada pelo processo de globalização, de estatizar empresas de grande porte
  - e) Mentalidade exportadora de produtos industrializados que inibe o desenvolvimento interno
- .....

34) Muitas catástrofes naturais abalam a humanidade, como terremotos, vulcanismos e maremotos. No Brasil, a ausência desses fenômenos é explicada pela:

- a) Existência de terrenos cristalinos antigos localizados nos limites de placas tectônicas
  - b) Ausência de rochas vulcânicas basálticas, indispensáveis na ocorrência de vulcões
  - c) Localização, distante de dorsais oceânicos e das bordas das placas tectônicas
  - d) Grande massa continental, que evita o escape do magma, mesmo estando em áreas de subducção
  - e) Localização na Placa Sul-Americana, que não se movimenta desde a era Mesozóica.
- .....

35) "Com relação à América Latina **não** é correto afirmar que:

- a) A estrutura agrária é caracterizada pelo predomínio da grande propriedade, embora já tenham sido feitas reformas agrárias em alguns países
- b) O crescimento industrial tem ocorrido às custas de capital e tecnologia estrangeira
- c) Entre os principais produtos exportados neste final de século se encontram muitos dos que formavam a lista de exportações na fase pré - industrial

- d) A importação de produtos manufaturados e de tecnologia de ponta continua a ocorrer mesmo em países que já possuem um diversificado parque industrial
- e) A instalação de sistemas abertos à concorrência internacional, a opção pelas importações e incentivos às privatizações têm diminuído as desigualdades sociais existentes

.....  
36) Uma das mudanças no contexto internacional, relacionadas ao final da Segunda Guerra Mundial, é:

- a) O desmantelamento do império austro-húngaro e sua divisão em novos Estados
- b) O perdão da dívida de guerra alemã pelos aliados, na conferência de Potsdam
- c) A divisão da Alemanha em dois Estados e a independência de suas colônias
- d) A reorganização da economia da Europa Ocidental através do Plano Marshall
- e) A criação da Sociedade das Nações visando manter a paz no continente europeu

.....  
37) Juscelino Kubitschek elegeu-se com uma proposta de “industrialização acelerada”, a qual esteve presente no slogan de campanha “50 anos em 5” e, posteriormente, no “Programa de Metas” de seu governo.

Essa política populista de crescimento acelerado da economia que o governo JK procurou promover foi possível graças:

- a) Ao estímulo de investimentos externos, à implantação de multinacionais no Brasil e à obtenção de empréstimos no exterior
- b) Ao incentivo aos investimentos privados em infra-estrutura, como energia, estradas e siderúrgicas
- c) A uma política de defesa da agricultura nacional visando o aumento da produção de cereais para a exportação
- d) À intervenção direta do Estado na indústria pesada, automobilística e de bens de consumo não-duráveis
- e) A uma série de reformas de base, como a agrícola, urbana, bancária e fiscal, visando a liberar capitais especulativos improdutivos

.....  
38) De tempos em tempos, a temperatura das águas equatoriais do Oceano Pacífico eleva-se acima da média. Este aquecimento, que altera profundamente o clima em escala planetária, inicia-se nos meses de setembro/outubro, sendo que em dezembro esta água aquecida chega à costa peruana.

O fenômeno responsável por esse fato é chamado

- a) La Niña
- b) Inversão Térmica
- c) Ilhas de Calor
- d) El Niño
- e) Efeito Estufa

.....  
39) A realidade rural brasileira apresenta acentuadas contradições, como, por exemplo:

I. A expansão das fronteiras agrícolas através do capitalismo investidor, pelo qual grandes grupos industriais tornam-se proprietários rurais

II. Grandes áreas agrícolas reduzidas a monoculturas exportadoras, como no interior de São Paulo, onde os extensos laranjais fornecem matéria-prima para sucos destinados à exportação

III. A substituição do sistema de colonato pelo trabalho temporário de bóias-frias

IV. O aumento de subsídios governamentais para o pequeno produtor, objetivando o abastecimento interno e a conseqüente baixa dos preços ao consumidor

Pela análise das afirmativas, conclui-se que estão corretas as da alternativa:

- a) I e II
- b) I, II e III
- c) I e III
- d) II e IV
- e) III e IV

.....  
40) O mundo apresenta redes de mobilidade populacional que transcendem fronteiras internacionais em busca de melhores condições de vida. Nesse deslocamento, pode-se afirmar corretamente que:

- a) Na América do Sul, os imigrantes que chegaram nas duas últimas décadas são representados por refugiados políticos e por japoneses que veem nas áreas metropolitanas melhores condições de vida do que no seu país
- b) Todos os países da América do Norte apresentam excelentes possibilidades econômicas para os imigrantes, continuando válida a ideia de “fazer a América”.
- c) São dos países africanos a maioria dos imigrantes que chegam atualmente ao Brasil para trabalhar nas indústrias da Grande São Paulo
- d) A busca dos melhores salários oferecidos pelos países produtores de petróleo atrai ao Golfo Pérsico muitos trabalhadores da Índia e de outras nações
- e) A porcentagem de população estrangeira na Austrália é superior à dos Estados Unidos, devido à proximidade com a África e à estabilidade econômica e política do país

.....  
41) “Tornou-se Estado em 1948, ampliando o seu território no ano seguinte. Chegou a incorporar a Faixa de Gaza na década de 60, devolvendo-a oficialmente em 2005.”

O país a que o texto se refere é:

- a) Palestina
- b) Afeganistão
- c) Eritreia
- d) Síria
- e) Israel

.....  
42) O Centro-Sul do Brasil apresenta diversidades econômicas marcantes. Uma relação correta entre região e economia é

- a) Vale do Rio Itajaí – indústria petroquímica
- b) Zona da Mata Mineira – criação de gado leiteiro
- c) Campanha Gaúcha – produção algodoeira
- d) Litoral Fluminense – criação de gado de corte
- e) Oeste Paulista – extração de carvão mineral

.....  
43) A *flexibilidade empresarial*, característica de empresas globalizadas, favorece, na prática:

- a) A especialização acadêmica voltada à excelência na produção em série
- b) A polivalência do indivíduo com mobilidade no âmbito do trabalho
- c) O desaparecimento de médias e pequenas empresas, com concentração da produção local
- d) O enfraquecimento de serviços voltados à terceirização, com a concentração da produção em cartéis
- e) A retração do trabalho autônomo, aumentando a concentração do operariado sob o domínio da técnica

.....  
44) No Brasil, têm-se identificado focos de tensões em áreas indígenas, causadas pelo extrativismo mineral e vegetal, bem como pela invasão das reservas por posseiros para transformá-las em áreas agrícolas.

O complexo regional e o Estado que centralizam o maior número de conflitos são, respectivamente:

- a) Nordeste e Rio Grande do Norte
- b) Centro-Sul e Rio Grande do Sul
- c) Amazônia e Pará
- d) Nordeste e Piauí
- e) Amazônia e Acre.

.....  
45) A afirmativa que se relaciona corretamente à globalização no mundo contemporâneo é:

- a) Compreende o processo de transnacionalização, expansão das corporações transnacionais na economia mundial
- b) Concentra cada vez mais a necessidade de produção agrícola nas nações populosas do Hemisfério Sul, restringindo a industrialização
- c) Manifesta um aumento no mercado consumidor de bens e tecnologia, proporcionando um crescimento econômico global e mais igualitário
- d) Estabelece limites rígidos para o capitalismo, inibindo o liberalismo econômico e impulsionando as privatizações

- e) Expressa um mundo bipolarizado, onde o capitalismo conquista espaços geográficos antes dominados pelo socialismo

46) Os países chamados de *emergentes*, que oferecem boas oportunidades para investimentos estrangeiros, apesar de subdesenvolvidos, são industrializados ou estão em fase de industrialização. A correspondência correta entre o perfil e os três países está apresentada em:

- a) Sistema capitalista – China, Grécia e Cuba
- b) Democracia frágil – Argentina, Canadá e Portugal
- c) Mão-de-obra abundante e qualificada – Brasil, Chile e Moçambique
- d) Crescimento econômico – China, Rússia e Brasil
- e) Proibição de investimentos externos – Brasil, Irã e Tailândia

47) Observe a tabela abaixo:

Taxa de analfabetismo nas Regiões	(%)	Participação dos eleitores por Região	(%)
Norte	29	Norte	6
Nordeste	46	Nordeste	27
Sudeste	22	Sudeste	44
Sul	22	Sul	16
Centro-Oeste	27	Centro-Oeste	18

Associando-se as tabelas, está correto afirmar que:

- a) O segundo maior colégio eleitoral brasileiro está mais suscetível às práticas clientelistas devido a baixa escolaridade da população
- b) Os analfabetos não são suscetíveis ao populismo na Região Sul, porque essa região recebeu imigrantes europeus
- c) O menor colégio eleitoral do Brasil é menos suscetível à corrupção porque a população, cuja escolaridade é mais elevada, controla mais facilmente os políticos
- d) O maior colégio eleitoral do Brasil está livre do “voto de cabresto” porque apresenta a menor taxa de analfabetismo
- e) O desconhecimento dos candidatos pelo eleitor, aliado à alta taxa de analfabetismo inibe o populismo na Região Centro-Oeste, área de migração

48) Podemos afirmar que os fluxos financeiros globais:

- a) Dinamizam atividades de serviços em Nova Iorque, Paris e Roma, onde se localizam as principais bolsas mundiais, o mesmo não ocorrendo nas principais bolsas do hemisfério sul: São Paulo e Joanesburgo
- b) Necessitam que as principais bolsas do mercado internacional abram e fechem ao mesmo tempo, evitando que haja interrupção nos fluxos e nas informações financeiras;
- c) São hoje tão significativos, na escala mundial, como nunca foram antes, tendo originado desigualdade social por serem mais intensos nas bolsas do hemisfério norte que nas bolsas do hemisfério sul
- d) Necessitam fluir continuamente, fazendo com que cada uma das principais bolsas operem 24 horas, sem interrupção, garantindo, assim, possibilidades de negócios aos investidores
- e) Fazem das bolsas de valores, operando sempre em sintonia para assegurar a continuidade dos negócios, locais onde são realizadas compras e vendas de ações pelos investidores

49) A abertura da China para o mundo capitalista favorece cada vez mais seu destaque no cenário mundial e reforça, em consequência, seu crescimento econômico.

Sobre o crescimento econômico da China, é INCORRETO afirmar que:

- a) A abertura econômica foi proporcionalmente maior do que a abertura do setor político
- b) As desigualdades regionais aprofundaram-se, em razão do crescimento das zonas especiais de exportação
- c) Os incentivos governamentais aos investimentos estrangeiros e a reabertura da bolsa de valores foram fatores importantes para o desenvolvimento econômico

- d) O sistema de transportes eficiente e moderno facilita a circulação de mercadoria dentro e fora do país
- e) O surgimento de uma potência econômica no Leste da Ásia é visto com desconfiança pelos EUA

.....

50) O dia 11 de setembro de 2001 marcou o mundo. A derrubada do World Trade Center assinalou a luta dos E.U.A contra o:

- a) Fascismo
  - b) Big Bang
  - c) Nazismo
  - d) Franquismo
  - e) Terrorismo
- .....